

Zad. 1

Rozmowa telefoniczna Jurka z ciocią z Krakowa kosztowała 17 zł, a rozmowa mamy z koleżanką była droższa o 36 zł. Ile tata musiał zapłacić za rozmowy rodziny?





















Rozwiązanie:

.....

Odpowiedź:

Zad. 2

Jeżeli pomarańcza = 5, to jaką wartość mają pozostałe owoce?

	+		+		+	 =21	=21	<input type="text"/>	
	+		+		+		=17	<input type="text"/>	
	+		+		+		=20	<input type="text"/>	
	+		+		+		=21	<input type="text"/>	

Zad. 3

Odkryj zasadę wpisywania liczb i uzupełnij brakujące

3	9	15
1	3	

4	12	16
2	6	

14	18	32
7		25