







 Uzupełnij tabelki.

	 + 2
3	
6	
7	
5	

	 + 3
2	
5	
4	
3	

	 - 3
9	
7	
5	
10	

	 - 2
6	
4	
2	
8	

 Oblicz i połącz z wynikiem.

$$9 - 7$$

$$9$$

$$10 - 6$$

$$6$$

$$2$$

$$4 + 5$$

$$4$$

$$3 + 3$$